

آموزشگاه: دخترانه پور جندقی سال تحصیلی: ۱۴۰۱ - ۱۴۰۰ نام معلم مربوطه: کاظمی	بسمه تعالی نوبت دوم (خرداد ماه) استان کرمان شهرستان رفسنجان کلاس: دوم	آزمون ریاضی نام و نام خانوادگی: .....
--	--	--

شرح سوال	سوال
<p>تفاوت و شباهت مستطیل و مربع را بنویسید.</p>	۱
<p>در جای خالی عدد مناسب بنویس .          الف) ۵۲ به چه عددی نزدیک تر است ؟          ب) ۷۹ به چه عددی نزدیک تر است ؟ ۷۰ یا ۸۰ ؟          ج) عدد ۱۳۲ به ۱۳۰ نزدیک تر است یا به ۱۴۰ ؟          د) عدد ۲۴۹ به ۲۴۰ نزدیک تر است یا به ۲۵۰ ؟</p>	۲
<p>ساعت چند است ؟ بنویس .          ۱۰ دقیقه بعد از ساعت ۱۰:۰۵ چه ساعتی است ؟          ۱۵ دقیقه بعد از ساعت ۷:۴۵ چه ساعتی است ؟</p>	۳
<p>قد مهران ۱۵۳ سانتی متر است. خواهرش ۱۳ سانتی متر از او بلندتر است. قد این دو نفر روی هم چند سانتی متر است ؟</p>	۴
<p>اگر فاطمه ۲۰۰ تا سکه ۱ ریالی به بانک تحویل دهد، بانک چند سکه ۱۰ ریالی به او می دهد ؟</p>	۵
<p>جاهای خالی را پر کنید.          ..... دسته ی ..... تایی می شود .....          ..... دسته ی ..... تایی می شود .....</p>	۶
<p>اعداد زیر را به رقم و حروف بنویس .          پانصد و هفتاد .....          ششصد و نود و یک .....</p>	۷
<p>حسین ۴۰۰ ریال و مجید ۳۰۰ ریال را در صندوق انداختند. آن ها با هم چند ریال در صندوق انداخته اند ؟</p>	۸
<p>۴۰ سانتی متر و ۷ میلی متر چند میلی متر است ؟          ۷۸ میلی متر چند سانتی متر و چند میلی متر است ؟</p>	۹

خروجی سبکی

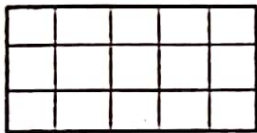
۱۰ با سه کارت که روی آن‌ها رقم‌های ۷ و ۰ و ۹ نوشته شده است. تمام عددهای سه رقمی را که می‌توان ساخت، درست کنید.  
چند عدد سه رقمی درست شد؟

۱۱ حاصل جمع و تفریق‌های زیر را بدست بیاور .

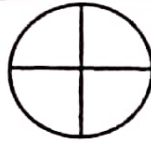
تکنیکی	تکنیکی	فرایندی	فرایندی
۴۲۸	۵۹۲	۴۹۲	۶۵۱
- ۱۱۹	+ ۲۲۱	- ۲۵۱	+ ۲۳۲

۱۲ عدد‌ها را مقایسه کن و علامت مناسب  $< = >$  بگذار.

۱۰۰ + ۳۰۰ ○ ۲۰۰ + ۲۰۰      ۲۰۰ + ۷ ○ ۲۲۰      ۳۱۶ ○ ۴۱۵



۶ قسمت از ۱۵ قسمت



۱۳ با توجه به عبارت نوشته شده، شکل را رنگ بزن.  
۲ قسمت از ۴ قسمت

۱۴ در جعبه‌ی مداد رنگی ۲ مداد قرمز، ۵ مداد آبی و ۳ مداد سبز وجود دارد.  
چه کسری از مدادها قرمز است؟  
چه کسری از مدادها آبی است؟  
چه کسری از مدادها سبز است؟

تعداد دانش‌آموزان شرکت‌کننده در رشته‌های ورزشی یک باشگاه به صورت زیر است.

رشته	والیبال	بسکتبال	فوتبال	کاراته	شنا	ژیمناستیک
تعداد	۶۳	۴۸	۳۳	۳۴	۴۸	۲۱
تعداد تقریبی	.....	.....	.....	.....	.....	.....



ابتدا تعداد تقریبی دانش‌آموزان را بنویس و نمودار را با نشان دادن هر ۱۰ نفر با شکل  کامل کن.



ژیمناستیک      شنا      کاراته      فوتبال      بسکتبال      والیبال

بازخورد معلم

ارزشیابی توصیفی      خیلی خوب      خوب      قابل قبول      نیاز به تلاش بیشتر

<p>آموزشگاه: دخترانه پور جندقی سال تحصیلی: ۱۴۰۰ - ۱۴۰۱ نام معلم مربوطه: کاظمی</p>	<p>بسمه تعالی نوبت دوم (خرداد ماه) استان کرمان شهرستان رفسنجان کلاس: دوم پاسخنامه</p>	<p>آزمون ریاضی نام و نام خانوادگی: .....</p>
شرح سوال		ردیف
<p>شبهات: هر دو شکل ۴ ضلع و ۴ گوشه دارند. تفاوت: در مربع همه ی ضلع ها هم اندازه هستند ولی در مستطیل فقط ضلع های رو به رو هم اندازه هستند.</p>		۱
<p>الف) ۵۰ (ب) ۸۰ (ج) ۱۳۰ (د) ۲۵۰</p>		۲
<p>ساعت ۳ و ۴۵ دقیقه ۱۵:۱۰ ده و ربع ۸:۰۰</p>		۳
<p>۳۱۹ سانتی متر</p> <p>۱۵۳ × ۱۳ ----- ۱۶۶ قد خواهرش</p> <p>× ۱۵۳ ۶۶ ----- ۲۱۹ قد دو نفر روز هم</p>		۴
<p>۲۰ سکه ی ۱۰ ریالی به او می دهند.</p>		۵
<p>۲ دسته ۵ تایی می شود ۱۰      ۳ دسته ی ۲ تایی می شود ۶</p>		۶
<p>۹۴۰      ۶۹۱      ۶۰۲      ۵۷۰</p>		۷
<p>آن ها با هم ۷۰۰ ریال در صندوق انداختند.</p> <p>+۴۰۰ ۳۰۰ ----- ۷۰۰</p>		۸
<p>۴۷ میلی متر ۷ سانتی متر و ۸ میلی متر</p>		۹
<p>۴ عدد ۹۰۷ - ۹۷۰ - ۷۹۰ - ۷۰۹</p>		۱۰
<p>۸۸۳ - ۸۱۳ - ۲۴۱ - ۳۰۹</p>		۱۱
<p>= &lt; &lt;</p>		۱۲
<p> </p>		۱۳
<p>۲ مداد از ۱۰ مداد قرمز است. ۵ مداد از ۱۰ مداد آبی است. ۳ مداد از ۱۰ مداد سبز است</p>		۱۴
<p>تعداد تقریبی</p> <p>۲۰   ۴۰   ۳۰   ۳۰   ۵۰   ۶۰</p>		۱۵